A decorative border surrounds the central text. On the left, there are three balloons (yellow, red, and white) tied to a blue school bag. Below the bag is a stack of books (green, yellow, and blue) with a red apple. On the right, there are several colorful flowers (pink, yellow, and red) and a pair of glasses. The background is a bright yellow-green color.

**Математика**  
**сабагы**  
**4-класс**



Саламдашуу



# Жагымдуу маанай



Мугалимдин  
сөзүн кунт  
коюп угуу

Тынчтыкты  
сактоо



Сабакка  
активдүү  
катышуу

Өз оюн эркин  
айтуу

**АЛТЫН  
ЭРЕЖЕ**

Убакытты туура  
пайдалануу

Кол көтөрүп,  
жооп берүү



# Баалоо

№	Тапшырма	(+), (-)
1	Кайталоо	
2	№319	
3	№320	
4	№321	
5	Ыкчам баалоо	
6	№322	
7	№323	
8	Жыйынтыктоо	



**Өтүлгөн теманы  
кайталуу**





**1-декабрь**

**Кыйыр түрүндөгү маселелер**





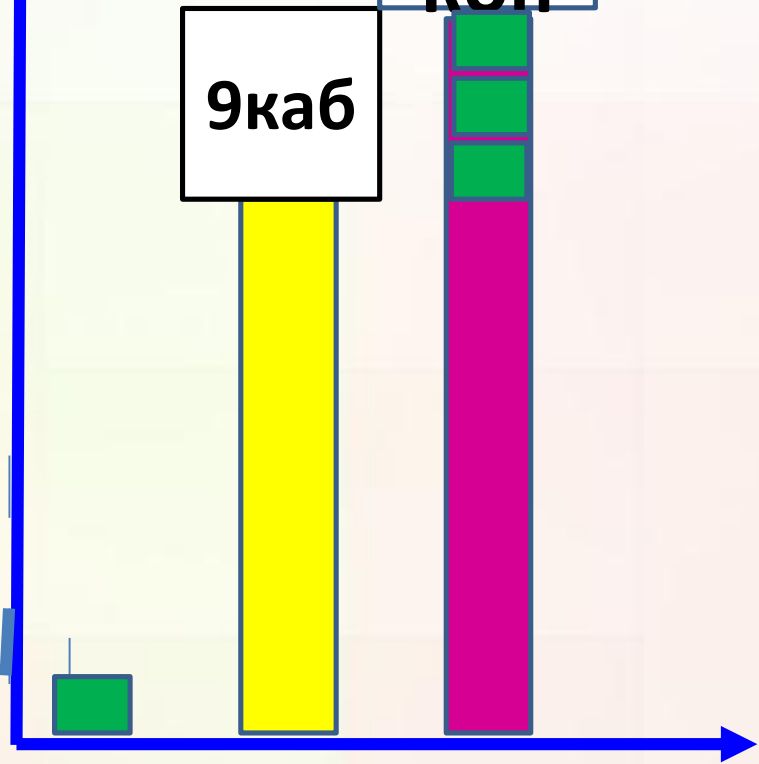
## Сабактын максаты:

Окуучулар кыйыр түрдө берилген сандарды бир нече бирдикке чоңойтуу, кичирейтүү боюнча маселелерди чыгарууну билишет. Аларды моделдештирип чыгарып, түшүнүктөрүн айтып беришет.

# №319

1. Биздин үй 9 кабат, ал эми жанаша жайгашкан үй биздин үйдөн 3 кабатка көп. Жанаша жайгашкан үй канча кабат?



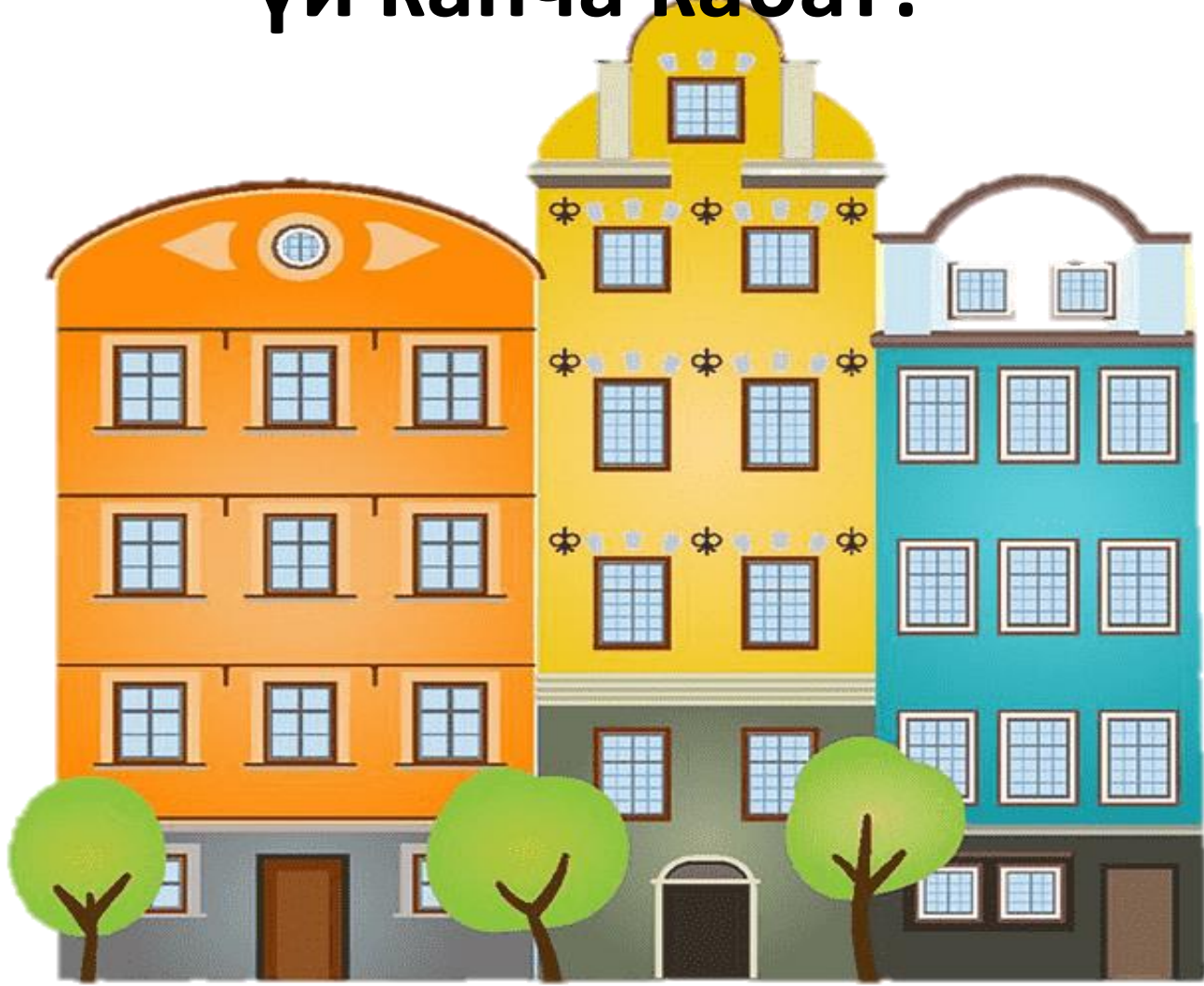


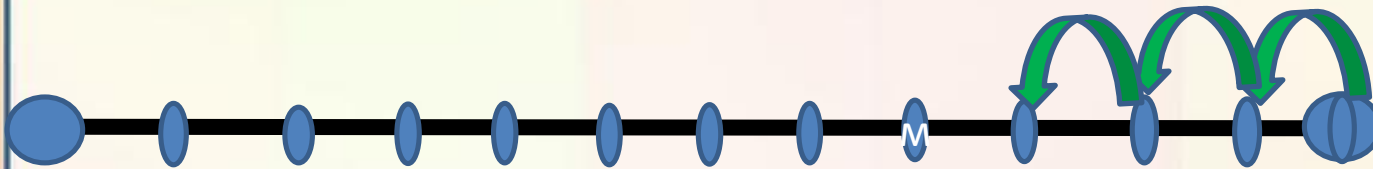
**1.  $9+3=12$  кабат (жанаша жайг.үй)**





**2. Бизге жанаша жайгашкан үй 12 кабат.  
Ал биздикинен 3 кабатка көп. Биздин  
үй канча кабат?**





**2.  $12-3=9$ кабат (биздин үй)**



MyShared









**Ыкчам иштөө**



## №320

1. Иниси 17 жашта. Ал эжесинен 3 жашка кичүү. Эжеси канча жашта?
  2. Атам 35 жашта. Ал апамдан 3 жашка улуу. Апам канча жашта?
- 
- 







**№321**

35km 820m

35820

— 7km 900m


— 7900



юнисеф







**Эс алуу  
мүнөтү:**



**№322**

**1. Чарбада 7800ц сабиз,  
андан 1250 центнерге көп  
кызылча жыйналды.  
Чарбада канча центнер  
кызылча жыйналган?**





## №322

1. Чарбада 7800ц сабиз, андан 1250 центнерге көп кызылча жыйналды. Чарбада канча центнер кызылча жыйналган?

$$7800+1250=9050\text{ц(кызылча)}$$







**№322**

**2. Чарбада 356 т картөшкө жыйналды. Бул кызылчага караганда 231 тоннага көп. Чарбада канча тонна кызылча жыйналган?**








**№322**

**2. Чарбада 356 т картөшкө жыйналды.  
Бул кызылчага караганда 231 тоннага  
көп. Чарбада канча тонна кызылча  
жыйналган?**

$$356-231=125\text{т (кызылча)}$$



юнисеф 



# №232

	Буюмдун баасы (сом менен)	Саны (Даана)	Наркы (сом менен)
<b>Калемдер</b>	a	15	?
<b>Кыл калемдер</b>	b	?	c
<b>Сызгыч</b>	?	a	d

**АРАМ ЗАМЭЗАМ**



1)  $15 * a$

2)  $c : b$

3)  $d : a$

$$\begin{array}{ll} 2) & 6*a+2*b, & 5*a+d:a, \\ & 3*b+d:a, & a+b+d:a \end{array}$$



**ЖЫЙЫНТЫКТОО:**



Үйгө

тапшырма:

68-БЕТ

№324





**Азаматсыңар!!!**

